



1. HAFTA



Kazanım:

6.3.5. Bağlamdan yararlanarak bilmediği kelime ve kelime gruplarının anlamını tahmin eder.
6.3.6. Deyim ve atasözlerinin metne katkısını belirler.
6.3.17. Metinle ilgili soruları cevaplar.
6.3.30. Görsellerle ilgili soruları cevaplar.
6.3.35. Grafik, tablo ve çizelgeyle sunulan bilgileri yorumlar.

6.4.10. Yazdıklarını düzenler.
MEB: 6.3.13. Metni oluşturan unsurlar arasındaki geçiş ve bağlantı ifadelerinin anlama olan katkısını değerlendirir.
ÖZEL YAYIN: 6.3.7. Çekim eklerinin işlevlerini ayırt eder.

Adı ve Soyadı:

Sınıfı:

Doğru Sayısı:

Yanlış Sayısı:

1. • Hava şartları nedeniyle geziyi haftaya bıraktık.
• Şemsiyeyi nereye bıraktığını bilmiyormuş.
• Özenle baktığı saçlarını omuzlarına bırakmış.

Aşağıdakilerden hangisi “bırakmak” sözcüğünün bu cümlelerde kazandığı anlamlardan biri değildir?

- A) Bir alışkanlıktan veya işten vazgeçmek
B) Sarkıtmak
C) Bir işi başka bir zamana ertelemek
D) Bir şeyi bir yerde unutmuş olmak

2. **Aşağıdaki cümlelerin hangisinde deyim cümleye “bütün gücünü harcıyarak yapmak” anlamı katmıştır?**

- A) Minik köpek, dişine kestirdiği bir kediyi görünce havlamaya başladı.
B) Dişe dokunur bir iş yapmadan bu hayatın bir anlamı yok.
C) Canımı dişime taktım ama ortaya çıkan iş uğraştığıma değmedi.
D) Ne zamandır diş biliyor bize ama henüz zarar veremedi.

3. Etkileyici mimari eserleri saatlerce seyretsen de nasıl yapıldığını anlayamazsın çünkü ----

Bu cümle düşüncenin akışına göre aşağıdakilerden hangisiyle tamamlanabilir?

- A) bütün etkileyici mimari eserlerde bir parça gizem vardır.
B) iyi mimari eserleri yapmak için çok fazla zaman gerekir.
C) başarılı bir mimar, bütün bildiklerini eserine yansıtmaz.
D) güzel mimari eserler, insanların bütün ihtiyaçlarını karşılar.

4. Ülkemizde çocukların seviyesine uygun dergiler hazırlanamıyor. Ne yazık ki bu dergilerin sayısı bir elin parmaklarını geçmiyor. Raflara baktığınızda birçok dergi görebiliyorsunuz ancak bunların nitelikli olduğunu söylemek çok zor.

Bu metindeki altı çizili söz ile aşağıdakilerden hangisi vurgulanmıştır?

- A) Dergilerin niteliğinin yeterli olmaması
B) Çocuk dergilerinin sayısındaki azlık
C) Biçime, içerikten daha fazla önem verilmesi
D) Dergi yayıncılığında promosyon azlığı



914768

ÖĞRENCİ NO					YANITLAR									
0	0	0	0	0	1	A	B	C	D	11	A	B	C	D
1	1	1	1	1	2	A	B	C	D	12	A	B	C	D
2	2	2	2	2	3	A	B	C	D	13	A	B	C	D
3	3	3	3	3	4	A	B	C	D	14	A	B	C	D
4	4	4	4	4	5	A	B	C	D	15	A	B	C	D
5	5	5	5	5	6	A	B	C	D	16	A	B	C	D
6	6	6	6	6	7	A	B	C	D	17	A	B	C	D
7	7	7	7	7	8	A	B	C	D	18	A	B	C	D
8	8	8	8	8	9	A	B	C	D	19	A	B	C	D
9	9	9	9	9	10	A	B	C	D	20	A	B	C	D



5. **SlothBot:** Tembel hayvanları taklit eden bu robot, ağaçlar arasına yerleştirilen kablolar üzerinde yavaşça ilerliyor. Güneş panellerinden elde ettiği enerjiyle çalışıyor, ortam sıcaklığını ve havadaki karbondioksit seviyesini ölçebiliyor.

Motoman: Japon pizzası yaparken gördüğünüz bu robot, müşterilerden sözlü sipariş alabilen gelişmiş bir teknolojiye sahip. Uyumlu çalışan iki kolu aracılığıyla tek başına yemek yapabiliyor. Hamuru karıştırıp ızgaraya dökerek şekil veriyor, çevirip iki tarafını da pişiriyor ve yemeği servis ediyor.

Starship: Bu robot, bir uygulama aracılığıyla verilen siparişleri müşterilere taşıyor. Öncelikle sipariş listesindeki ürünler hazırlanıyor ve taşınması için robota yerleştiriliyor. Robot, yön bulma uygulamasıyla belirlenen adrese doğru yola çıkıyor. Ne tarafa yöneleceğini, ne zaman karşıya geçeceğini anlaması için birçok algılayıcısı bulunuyor.

Aşağıdaki görsellerden hangisi bu metinlerde anlatılan robotlardan birine ait değildir?



6.

Araba arızalanınca bir taksi çağırmak için telefona sarıldı Ahmet ama bulunduğu yerde telefon çekmiyordu. Arabayı orada öylece bırakıp yürümeye başladı. İleride bir benzin istasyonu görünüyordu. İstasyona geldi ama burada da kimse yoktu. Derken bir araba yanaştı. Şoföre durumu anlatıp onu arabasının yanına götürdü. Adamın araba tamirinden anlaması büyük şanstı. Çok geçmeden tekrar yola koyuldu.

Bu metinde aşağıdaki hikâye unsurlarından hangisine yer verilmemiştir?

- A) Kişi B) Olay
C) Zaman D) Mekân

7. ---- Yetkililer, kazadan 22 gün sonra kumanda edilen bir araçla uçağın kara kutusuna ulaştı. Uçağın düşüş sebebi, uçakların havadaki hızını ölçmeye yarayan pitot tüplerinden birinin tıkalı olmasıydı. Uçağın enkazı, denizin dibinden çıkarılamadığı için pitot tüpünün tıkanmasına neyin sebep olduğu tam olarak anlaşılamadı.

Bu metinde boş bırakılan yere düşüncenin akışına göre aşağıdakilerden hangisi getirilmelidir?

- A) Pitot tüpünü Henri Pitot akarsuların akış hızını ölçmek için geliştirdi.
B) Sivri bir boruya benzeyen pitot tüpü, uçuş güvenliği açısından çok önemlidir.
C) Beklenmedik uçak kazaları, arkalarında daima soru işaretleri bırakır.
D) ABD'den kalkan bir yolcu uçağı kalkıştan 5 dakika sonra Atlantik Okyanusu'na düştü.

8.

Çalışma sürecinde bizi hedefimizden alıkoyacak pek çok engelle karşılaşabiliriz. Verimli çalışmanın ilk koşulu, uygun bir çalışma ortamı hazırlamaktır. Dağınık bir ortamda çalışmak, boş zaman harcamaktır. En iyisi, dikkatinizi dağıtacak fazla obje olmayan sade bir odada, mümkünse boş bir duvara dönük çalışın. İlginizin sadece çalıştığınız konuya yönelmesi çok önemlidir. Kesinlikle karnınız aç ve bedeniniz yorgunken çalışmayın. Öncelikle fiziksel ihtiyaçları gidererek bedeninizi çalışmaya hazır hâle getirin.

Bu metnin konusu aşağıdakilerden hangisidir?

- A) Verimli çalışma yöntemleri
B) Aşırı çalışmanın fiziksel zararları
C) Odaklanma güçlüğüyle başa çıkma yolları
D) Çalışmak için hedef belirlemenin önemi

9. Tekim şimdilik bir ağaç gibi

Ama bu böyle son gecem olacak

Neşeli bir kıpırtı sarar içimi

Acaba yarın neler olacak

İyi şeyler düşünelim değil mi

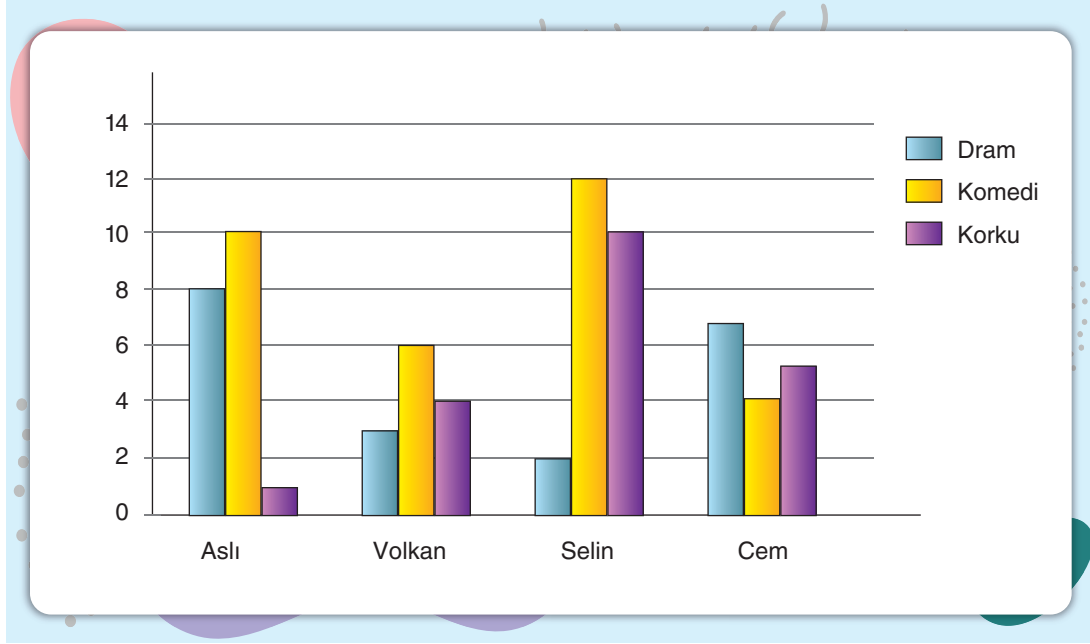
Kuşlar ötecek, çiçekler açacak

Bu şiirde aşağıdakilerden hangisine yer verilmemiştir?

- A) Umut B) Öfke
C) Yalnızlık D) Merak



10. Aşağıdaki grafikte Aslı, Volkan, Selin ve Cem adlı kişilerin bir yıl boyunca izledikleri filmlerin türleri ve sayıları gösterilmiştir.



Buna göre,

- I. Aslı; Volkan'dan daha çok, Selin'den daha az dram filmi izlemiştir.
- II. Yıl içinde en çok film izleyen kişi Selin'dir.
- III. En çok dram filmi izleyen kişi, sadece bir korku filmi izlemiştir.
- IV. Cem, Selin'den daha çok komedi filmi izlemiştir.

yargılarından hangilerine ulaşılabilir?

- A) Yalnız I B) Yalnız II C) II ve III D) II ve IV

11. Öğle tatilinde kantinden yiyecek almak için sıraya giren Dođukan, Zeynep, Kaan, Tunga, Yaman, Emir ve Asya adlı öğrencilerle ilgili aşağıdakiler bilinmektedir.

- Zeynep pođaçasını Asya'dan hemen sonra, Dođukan'dan hemen önce almıştır.
- Tunga'dan önce ve sonra sırada bekleyenlerin sayısı eşittir.
- Dođukan veya Emir sonuncu değildir.
- Kaan, Emir'den hemen önce simit almıştır.

Buna göre sıranın başındaki ve sonundaki öğrenciler aşağıdakilerden hangisidir?

- A) Asya ve Kaan
B) Zeynep ve Yaman
C) Asya ve Yaman
D) Dođukan ve Yaman

12. Aşağıda noktanın bazı görevleri verilmiştir.

- Bazı kısaltmaların sonuna konur.
- Sayılardan sonra sıra bildirmek için konur.
- Saat ve dakika gösteren sayıları birbirinden ayırmak için konur.

Buna göre aşağıdaki cümlelerin hangisinde nokta yanlış kullanılmıştır?

- A) Ankara'dan Eskişehir'e gidecek 10.30 treni bu perondaymış.
- B) Dün sabah Av. Seyhan Aslan 2.'nci kez arayıp davayla ilgili bilgi verdi.
- C) Prof. Dr. Mehmet Dođan birazdan ameliyathanede olacak.
- D) Yarışın 3. kilometresinde koşuculardan biri düşerek yaralandı.

13. Belirli bir tarih bildiren ay ve gün adları büyük harfle yazılır.

Buna göre "Ünlü yazar, 23 Ekim 1932 pazar günü İstanbul'da dünyaya gelmiş." cümlesindeki yazım yanlışı aşağıdaki değişikliklerden hangisiyle giderilebilir?

- A) "23" rakamla değil, yazıyla yazılmalıdır.
- B) "pazar" sözcüğü, büyük harfle başlamalıdır.
- C) "Ekim" sözcüğü, küçük harfle başlamalıdır.
- D) "günü" sözcüğü, büyük harfle başlamalıdır.



14 ve 15. soruları MEB kitabını kullanan öğrenciler çözecektir.

14. Android robotlar olarak da bilinen insansı robotlar genellikle baş, gövde, kollar ve bacaklardan oluşuyor ---- bazılarında bu bölümlerin hepsi birden olmayabiliyor.

Bu cümlede boş bırakılan yere aşağıdaki geçiş ve bağlantı ifadelerinden hangisi getirilemez?

- A) ama
B) fakat
C) ancak
D) çünkü

15.

Her insan başarılı olmak ister. Peki, bu mümkün mü? Eğer hedefinizi doğru belirler, bu hedef doğrultusunda sıkı çalışırsanız neden mümkün olmasın? Kimi insanlar sıkı çalışsalar da kendilerine yüksek hedefler belirlediklerinden başarılı olamaz. Kimi insanlarsa çok kolay erişilebilir hedefler belirler ancak onlar da bırakın sıkı çalışmayı hiç çalışmazlar. Sonuç olarak her iki grup insan da hedefine ulaşip başarılı olamaz.

Bu metinde asıl anlatılmak istenen aşağıdakilerden hangisidir?

- A) İnsanlar, kendilerine uygun hedefler belirlemeye çalışmalıdır.
B) Sıkı çalışmayan insanların başarılı olma olasılığı yoktur.
C) Doğru hedef belirleyip sıkı çalışıldığında her insan başarılı olabilir.
D) Belirledikleri hedefi önemsemeyenler çok çalışsalar da başarılı olamaz.

16 ve 17. soruları özel yayınların kitabını kullanan öğrenciler çözecektir.

16. İsimleri diğer sözcüklere bağlayan ve isimlerin cümlede görev kazanmalarını sağlayan eklerle "isim durumu (hâl) ekleri" denir. Durum (hâl) ekleri; belirtme hâli eki (-i), yönelme hâli eki (-e), bulunma hâli eki (-de) ve ayrılma hâli eki (-den) olmak üzere dört başlıkta incelenir.

Bu açıklamaya göre aşağıdaki cümlelerdeki altı çizili sözcüklerin hangisinde isim durumu eki yoktur?

- A) Yarın arkadaşlarla sinemaya gideceğiz.
B) Sıradan hikâye kitapları ilgimi çekmez.
C) Yolda ilkokul öğretmenimle karşılaştım.
D) Dersi dinlersen en zor konuyu bile anlarsın.

17. Kitaplar(...) her tür bilgi(...) bulmak mümkündür, yeter ki kitaplar(...) yararlanmayı bilin.

Bu cümlede boş bırakılan yerlere aşağıdaki hâl eklerinden hangisi getirilemez?

- A) Bulunma hâli eki (-de/-da)
B) Ayrılma hâli eki (-den/-dan)
C) Belirtme hâli eki (-i/-ı/-u/-ü)
D) Yönelme hâli eki (-e/-a)



2. HAFTA



Kazanım:

- 6.3.5. Bağlamdan yararlanarak bilmediği kelime ve kelime gruplarının anlamını tahmin eder.
6.3.6. Deyim ve atasözlerinin metne katkısını belirler.
6.3.17. Metinle ilgili soruları cevaplar.
6.3.30. Görsellerle ilgili soruları cevaplar.

- 6.3.35. Grafik, tablo ve çizelgeyle sunulan bilgileri yorumlar.
6.4.10. Yazdıklarını düzenler.
MEB: 6.3.14. Metindeki söz sanatlarını tespit eder.
ÖZEL YAYIN: 6.3.7. Çekim eklerinin işlevlerini ayırt eder.

Adı ve Soyadı:

Sınıfı:

Doğru Sayısı:

Yanlış Sayısı:

1. Spora küçük yaşlarda başlamam tesadüf değil. Babam ve teyzem sporcuydu, ben de onlara ---- başladım bu işe. Vücut yapımın buna uygun olması da işimi kolaylaştırdı. Jimnastikle başlayan spor hayatım, millî basketbolculukla devam etti. Şimdi de antrenör olarak ---- küçük sporculara aktarıyorum. Benim hayata gelişim amacım spor.

Bu metinde boş bırakılan yerlere aşağıdakilerden hangisi sırasıyla getirilmelidir?

- A) giderek - endişelerimi
B) sorarak - sorularımı
C) özenerek - deneyimlerimi
D) imrenerek - yanlışlarımı

2. Deyimler, dile anlatım güzelliği katar ve anlatılması zor sayılabilecek kimi durumların ifadesini kolaylaştırır. Bu nedenle olsa gerek dilimizde farklı konularla ilgili birçok deyim bulunmaktadır.

Buna göre aşağıdaki cümlelerin hangisinde sorumluluk almakla ilgili bir deyim kullanılmıştır?

- A) Şirketin büyümesi için senin de elini taşın altına koyman gerekiyor.
B) Köyde geçen çocukluğumu hatırladıkça burnumun direği sızlıyor.
C) Ayak altında dolaşmasınlar diye çocukları futbol sahasına gönderdi.
D) Bu karmaşık meseleye kafa yormak onu çok bunaltmıştı.

3. I. Başarısız olmaktan korkmayın çünkü her başarısızlıkta alınacak dersler vardır.
II. İşe uygun araç kullanmayan kişiler, doğru sonuçlara ulaşamaz.
III. Hep aynı yanlışı tekrar eden insanlar, yaptıklarından ders almıyor demektir.
IV. Ne kadar yanlışı yaparsanız o kadar doğru yöntem öğrenirsiniz.

Numaralanmış cümlelerden hangileri anlamca birbirine en yakındır?

- A) I ve II
B) I ve IV
C) II ve III
D) III ve IV

4. I. bir toplumun
II. bir arada kalmasını
III. varlık dildir
IV. anlaşmasını ve
V. sağlayan en önemli

Numaralanmış sözler kurallı ve anlamlı bir cümle oluşturacak şekilde sıralandığında hangisi baştan üçüncü olur?

- A) II
B) III
C) IV
D) V



914769

ÖĞRENCİ NO					YANITLAR									
0	0	0	0	0	1	A	B	C	D	11	A	B	C	D
1	1	1	1	1	2	A	B	C	D	12	A	B	C	D
2	2	2	2	2	3	A	B	C	D	13	A	B	C	D
3	3	3	3	3	4	A	B	C	D	14	A	B	C	D
4	4	4	4	4	5	A	B	C	D	15	A	B	C	D
5	5	5	5	5	6	A	B	C	D	16	A	B	C	D
6	6	6	6	6	7	A	B	C	D	17	A	B	C	D
7	7	7	7	7	8	A	B	C	D	18	A	B	C	D
8	8	8	8	8	9	A	B	C	D	19	A	B	C	D
9	9	9	9	9	10	A	B	C	D	20	A	B	C	D



5. Yeni taşındıkları evlerinin boş odasına eşya almak isteyen Merve ve Cengiz çifti aşağıdaki listeyi yapmıştır.

- Masa lambası
- Yeşil tekli koltuk
- Kırmızı halı
- Tablo
- Saksı çiçeği
- Televizyon

Alışverişten dönen ve aldıkları eşyaları yerleştiren Merve ve Cengiz'in evlerinin son hâli aşağıdaki görseldeki gibidir.



Buna göre,

- Listede olmayan eşyalar almışlardır.
- Bazı eşyaların farklı renklerini almışlardır.
- Almadıkları tek ürün lambadır.

yargılarından hangileri söylenemez?

- A) Yalnız I B) Yalnız III C) I ve II D) II ve III

6.

Pek çok ülkede yapılan ticari balıkçılık faaliyetleri sonucu milyarlarca kanca, milyonlarca tuzak, binlerce kilometre uzunlukta misina ve ağ okyanuslara düşüyor. Tüm bu balıkçılık malzemeleri, artan deniz kirliliğinin en önemli nedenlerinden biri olarak görülüyor. Pek çok canlı bu malzemelere dolanarak onlarla yaşamaya devam etmek zorunda kalıyor ya da yaşamını yitiriyor. Köpek balığı ve vatoz gibi soyu tehlike-
de olan türler de bu kirlilikten en çok etkilenen canlılar arasında.

Bu metinde aşağıdakilerden hangisine değinilmemiştir?

- A) Ticari balıkçılığın olumsuz sonuçlarına
- B) Kirlilikten etkilenen deniz canlılarına
- C) Denizleri kirleten balıkçılık malzemelerine
- D) Deniz kirliliğine karşı alınan önlemlere

7.

Özü sözü birdi Aslan'ın, söyledikleriyle yaptıkları asla birbiriyle çelişmezdi. Sevdikleri için gerektiğinde kendi zamanını veya parasını hiç çekinmeden harcardı. İyi bir marangozdu, aldığı bir işi ince eleyip sık dokuyarak yapar, ortaya çıkardığı üründe en ufak bir hata veya kusur olmasına tahammül edemezdi.

Bu metinde söz edilen kişi aşağıdakilerden hangisiyle nitelendirilemez?

- A) Tutarlı
- B) Fedakâr
- C) Titiz
- D) Sabırsız

8.

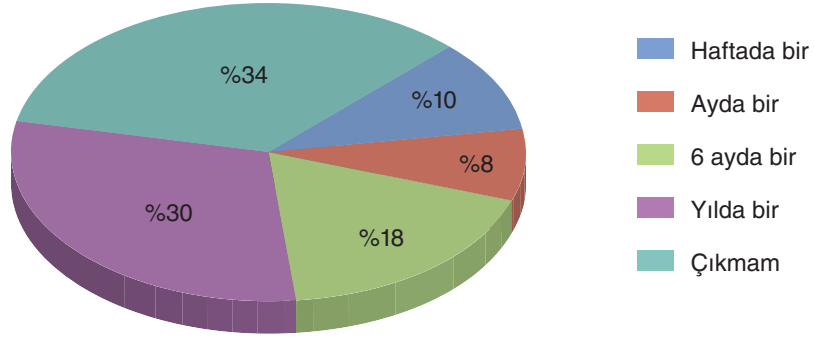
(I) Çiçek bakımında dikkat edilmesi gereken en önemli nokta, çiçeği koyduğunuz yerdir çünkü bazı çiçekler gün ışığını sever bazıları sevmez. (II) Tıpkı insanlar gibi çiçeklerin de fiziksel ihtiyaçları farklıdır. (III) Bazıları sudan çok hoşlanırken bazıları daha az su ister, bazıları derin toprak severken bazıları sığ sever. (IV) Kısacası çiçeğin sadece dış görünüşüne aldanmamanız yerinde olacaktır aksi takdirde çiçek birkaç günde solup gidebilir.

Bu metinde numaralanmış cümlelerin hangisinde örnek verilmiştir?

- A) I
- B) II
- C) III
- D) IV



9. Aşağıda “Hangi aralıklarla yolculuk yaparsınız?” sorusuna verilen yanıtlar pasta grafikte gösterilmiştir.



Bu sorulara cevap veren İdil, Nazlı, Kemal ve Cenk'in bulunduğu yüzdeler aşağıda verilmiştir.

İdil	%10
Nazlı	%34
Kemal	%18
Cenk	%30

Bu bilgilere göre aşağıdakilerden hangisi söylenemez?

- A) İdil, yıl içinde Kemal'den daha fazla yolculuk yapmaktadır.
- B) Cenk, her yıl bir kez yolculuk yapmaktadır.
- C) Hiç yolculuk yapmayanların sayısı, yılda bir kez yolculuk yapanlardan fazladır.
- D) Nazlı, yıl içinde Kemal'den daha fazla yolculuk yapmaktadır.

10. I. Belki size ülkemizin büyük bir bölümünün de burada yer aldığını söylersek bir tahminde bulunabilirsiniz.

II. Bir ipucu verelim, bu kıta aynı zamanda dünyanın en büyük kıtası!

III. Dünyadaki en derin çukurun ve en yüksek dağın hangi kıtada yer aldığını biliyor musunuz?

IV. Evet, evet. Asya kıtasından söz ediyoruz!

Numaralanmış cümlelerle anlamlı ve kurallı bir metin oluşturulmak istense doğru sıralama aşağıdakilerden hangisi olur?

A) III - IV - II - I

B) III - II - I - IV

C) I - III - II - IV

D) I - IV - II - III

11. Halat çekme oyunu oynayan Arda, Nil, Kayra, Umut, Cemil ve Batu üçer kişilik iki takıma ayrılmıştır. Takımların adları “Gece” ve “Gündüz” olarak belirlenmiştir. Oyunla ilgili diğer bilinenler aşağıda verilmiştir.

- Arda ve Nil aynı takımdadır.
- Kayra ve Umut farklı takımlardadır.
- Nil, kaybeden takımdadır.
- Yarışmayı “Gece” takımı kazanmıştır.

Buna göre aşağıdakilerden hangisine kesin olarak ulaşamaz?

- A) Arda, “Gündüz” takımındadır.
 B) Cemil, kazanan takımdadır.
 C) Umut ve Nil aynı takımdadır.
 D) Batu ve Cemil, “Gece” takımındadır.

12. • Özel adlar büyük harfle başlar.
 • Dış, iç, sıra sözleriyle oluşturulan birleşik kelime ve terimler ayrı yazılır.
 • Belirli bir tarih bildiren ay ve gün adları büyük harfle başlar.

Aşağıdaki cümlelerin hangisinde bu kurallardan herhangi biri örneklenmemiştir?

- A) Eğitim Vakfının bu sene düzenleyeceği etkinliğe ben de katılacağım.
 B) Merve Hanım'ın 27 Haziran Cumartesi günü düğünü varmış.
 C) Olağan dışı bir durum olmadığı sürece bugün beni aramayın.
 D) Beni affetmen için daha ne yapmam gerektiğini bilmiyorum.

13. **Aşağıdaki cümlelerin hangisinde yay ayraçla belirtilen yere virgül (,) getirilemez?**

- A) Araştırmacılar () küresel ısınmayı önlemek için çalışmalar yürütüyor.
 B) Eklem () hastalıklarının önüne geçmek için düzenli spor yapmalıyız.
 C) Kurtlar () çakallar ve sırtlanlar yabani hayvanlardan bazılarıdır.
 D) Ocaktaki yemeğin tadına baktı () yemeğe biraz daha tuz ve biber ekledi.



14 ve 15. soruları MEB kitabını kullanan öğrenciler çözecektir.

14.

Deler bilimin ışığı
Sonu gelmez sanılan karanlığı
Çevirir her yanı
Özlenen aydınlığa

Bu dizelerde aşağıdaki söz sanatlarının hangisinden yararlanılmıştır?

- A) Karşıtlık (Tezat)
- B) Konuşturma (İntak)
- C) Kişileştirme (Teşhis)
- D) Benzetme (Teşbih)

15.

Deniz Biyolojisi Laboratuvarında yapılan çalışma, ahtapotların bilinen en esnek uzantılara sahip canlılar olduğunu ortaya koydu. Araştırmacılar tarafından birkaç ay boyunca görüntülenen 10 ahtapotun toplamda 16 bin 563 farklı kol hareketi sergilediği kaydedildi. Üstelik bunu yaparken tüm kollarını eşit kapasitede kullanabildikleri gözlemlendi. Ahtapotların kollarını farklı yönlerde ve farklı açılarda eğebilen, döndürebilen, uzatabilen ve kısaltabilen canlılar olduğu ispatlandı.

Bu metne getirilebilecek en uygun başlık aşağıdakilerden hangisidir?

- A) Esnek Canlılar
- B) Su Altı Dünyası
- C) Ahtapotlardaki Esneklik
- D) Deniz Araştırmaları

16 ve 17. soruları özel yayınların kitabını kullanan öğrenciler çözecektir.

16. Çoğul ekleri ya da çokluk ekleri, tekil isimlerin sonuna gelerek onlara çokluk anlamı katan eklerdir. Çoğul ekleri cümleye “aile, alay, yaklaşıklık ve abartma” anlamları da katar.

Buna göre aşağıdaki cümlelerin hangisinde “-ler/-lar” eki cümleye aile anlamı katmıştır?

- A) Ahmetlerin geçen hafta Adana’ya taşındığını öğrendim.
- B) Anadolu’daki küçük ilçeleri gezerken çok güzel vakit geçirdim.
- C) Sinema salonunun önünde sekiz on yaşlarında bir çocuk duruyordu.
- D) Türkler, mevsime göre göç eden konargöçer bir toplumdur.

17. Çitten atlayan koyunlar, meraya doğru gidiyordu.

Bu cümlede aşağıdaki isim çekim eklerinden hangisi yoktur?

- A) Bulunma durumu eki
- B) Ayrılma durumu eki
- C) Yönelme durumu eki
- D) Çoğul eki



Kazanım:

- 6.3.5. Bağlamdan yararlanarak bilmediği kelime ve kelime gruplarının anlamını tahmin eder.
6.3.6. Deyim ve atasözlerinin metne katkısı belirler.
6.3.17. Metinle ilgili soruları cevaplar.
6.3.30. Görsellerle ilgili soruları cevaplar.

- 6.3.35. Grafik, tablo ve çizelgeyle sunulan bilgileri yorumlar.
6.4.10. Yazdıklarını düzenler.
MEB: 6.3.29. Okudukları ile ilgili çıkarımlarda bulunur.
ÖZEL YAYIN: 6.3.7. Çekim eklerinin işlevlerini ayırt eder.

Adı ve Soyadı:

Sınıfı:

Doğru Sayısı:

Yanlış Sayısı:

1. Onu karanlık günlerin beklediğini artık biliyordu.

“Aydınlık” sözcüğü, aşağıdakilerin hangisinde bu cümledeki altı çizili sözcüğün zıt anlamı olarak kullanılmıştır?

- A) Fenerlerle süslenmiş aydınlık yoldan sahile kadar yürüdük.
B) Güvercinler, apartmanın aydınlığına yuva yapmış.
C) Hava henüz aydınlıkken gideceğimiz yere varmalıyız.
D) Gençlerimiz, aydınlık geleceğimizin teminatıdır.

2. Çağımızın en büyük sorunu israf. İhtiyacımız olmadığı hâlde ışıkları açıyoruz. Suyu hiç tükenmeyecekmiş gibi bol bol harcıyoruz. Dünyamızın sınırlı kaynaklarını har vurup harman savuruyoruz. Bir gün gelecek ihtiyacımız olduğunda umarsızca harcadığımız bu kaynakları yerinde bulamayacağız. Hepimiz bugünden itibaren enerji ve su israfına dur demeliyiz. Her şeyi gerektiği yerde ve zamanda harcamalı, hiçbir şeyi israf etmemeliyiz.

Bu metinde altı çizili söz ile anlamca aynı doğrultuda olan atasözü aşağıdakilerden hangisidir?

- A) Gündüzün mum yakan geceleyin bulamaz.
B) Haydan gelen huya gider.
C) Güvenme varlığa, düşersin darlığa.
D) Bir elin nesi var iki elin sesi var.

3. • Güneş, olduğu günden bu yana yani yaklaşık 4,5 milyar yıldır enerji üretiyor.
• Güneş enerjisinden günümüzde pek çok farklı alanda yararlanıyoruz.

Bu iki cümlenin anlamca doğru bir biçimde birleştirilmiş hâli aşağıdakilerden hangisidir?

- A) Yaklaşık 4,5 milyar yıldır enerji üreten Güneş'in enerjisinden olduğu günden bu yana pek çok farklı alanda yararlanıyoruz.
B) Oluştığı günden bu yana yani yaklaşık 4,5 milyar yıldır enerji üreten Güneş'in enerjisinden günümüzde pek çok farklı alanda yararlanıyoruz.
C) Günümüzde pek çok farklı alanda yararlandığımız Güneş, olduğu günden bu yana yani 4,5 milyar yıldır enerji üretiyor.
D) Günümüzde pek çok farklı alanda yararlandığımız Güneş, yaklaşık 4,5 milyar yıldır enerji üretiyor.



914770

ÖĞRENCİ NO					YANITLAR									
0	0	0	0	0	1	A	B	C	D	11	A	B	C	D
1	1	1	1	1	2	A	B	C	D	12	A	B	C	D
2	2	2	2	2	3	A	B	C	D	13	A	B	C	D
3	3	3	3	3	4	A	B	C	D	14	A	B	C	D
4	4	4	4	4	5	A	B	C	D	15	A	B	C	D
5	5	5	5	5	6	A	B	C	D	16	A	B	C	D
6	6	6	6	6	7	A	B	C	D	17	A	B	C	D
7	7	7	7	7	8	A	B	C	D	18	A	B	C	D
8	8	8	8	8	9	A	B	C	D	19	A	B	C	D
9	9	9	9	9	10	A	B	C	D	20	A	B	C	D



4. Aşağıda İstanbul'un ilçelerinden Beyoğlu'nda çekilmiş bir fotoğraf verilmiştir.



Bu fotoğraftan hareketle Beyoğlu ile ilgili,

- I. Kullanılan ulaşım araçlarından biri tramvaydır.
- II. Çok katlı apartmanlar bulunmaktadır.
- III. İnsan kalabalığı nedeniyle çevre kirliliği vardır.

çıkartımlarından hangileri yapılabilir?

- A) Yalnız I B) Yalnız III C) I ve II D) II ve III

5. Satürn ve Uranüs'ün ortak özelliklerinden biri, büyük gaz kütlelerinden oluşmalarıdır.

Bu cümleden,

- I. Satürn ve Uranüs'ün birden fazla ortak özelliği vardır.
- II. Büyük gaz kütlelerinden oluşan başka gezegenler de vardır.
- III. En büyük gezegenler, Satürn ve Uranüs'tür.

Yargılarından hangilerine kesin olarak ulaşılır?

- A) Yalnız I B) Yalnız III C) I ve II D) II ve III

6. • Dünya üzerindeki en geniş topraklara sahip ülke Rusya'dır. Asya'da bulunan bu ülkenin sahip olduğu topraklar, dünya üzerindeki toplam kara alanının onda birinden daha fazladır.
- Dünyanın en uzun demir yolu hattı Asya'dan geçer. Yaklaşık 9 bin 259 kilometre uzunluğundaki bu hat Moskova ve Vladivostok arasındadır.
- Dünyanın en kalabalık kıtası Asya'dır. Ayrıca dünyadaki en kalabalık 10 kentten 7'si de Asya'da yer alır: Tokyo, Delhi, Şanghay, Dakka, Mumbai, Pekin ve Osaka.

Bu bilgilerin yer aldığı bir metne getirilebilecek en uygun başlık aşağıdakilerden hangisidir?

- A) Asya'nın Enleri
B) Rusya'nın Yüz Ölçümü
C) En Uzun Tren Yolu
D) Kalabalık Kentler

7. Göçmen kuşların verimli bir şekilde üremek için üreme alanlarına zamanında ulaşması gerekir. Üreme bölgelerine çok erken gelirse kış henüz etkisini kaybetmemiş olabilir ve bu da kuşları açlık tehlikesiyle karşı karşıya bırakabilir. Göçmen kuşlar, bu zamanı üremeye uygun koşulların en yüksek olasılığına göre ayarlamak için her günün ışık uzunluğunu yani fotoperiyodunu takip eder. Bu takip, ışığı algılamak için beyinlerindeki özel fotoreseptörleri kullanan hayvanlarda içgüdüsel olarak gerçekleşir.

Bu metinde aşağıdaki sorulardan hangisinin cevabı yoktur?

- A) Göçmen kuşlar, üreme alanlarına erken giderse hangi tehlikeyle karşılaşır?
B) Göçmen kuşlar için üreme bölgelerine vaktinde ulaşmak niçin önemlidir?
C) Göçmen kuşlar, her günün ışık uzunluğunu nasıl takip eder?
D) Göçmen kuşlar, en fazla ne kadar uzağa uçabilir?

8. **Banu:** Merhaba, Deniz. Son zamanlarda İdil'le görüştün mü?

Deniz: Birkaç defa sözleştik ama ne yazık ki buluşamadık. Sadece telefonla görüşebildik. Niye sordun?

Banu: Bir sıkıntısı olup olmadığını merak ettim. İdil'le ne zaman konuşsam fikirlerime karşı çıkıyor. Hatta bazen benim gibi düşünse bile bunu söylemiyor.

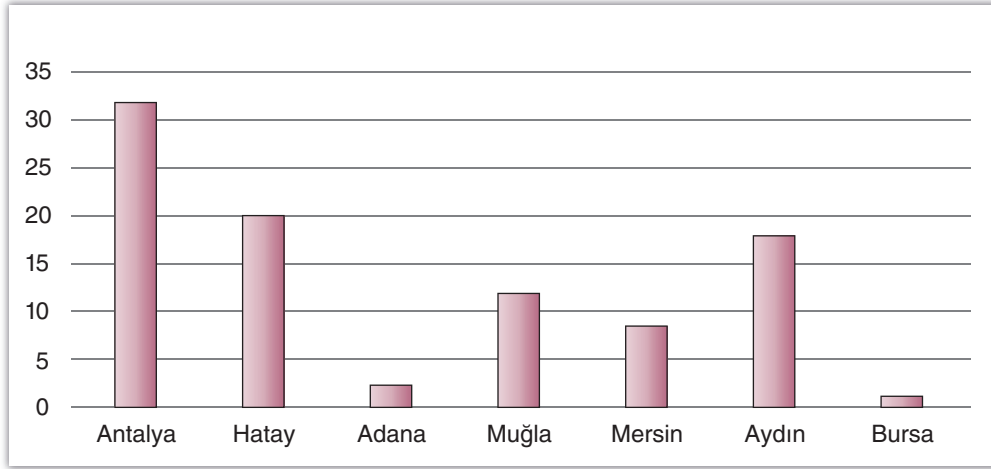
Deniz: ----

Bu diyalogda boş bırakılan yere aşağıdakilerden hangisi getirilirse Deniz'in Banu'nun yaşadığı duruma şaşıracağı anlaşılır?

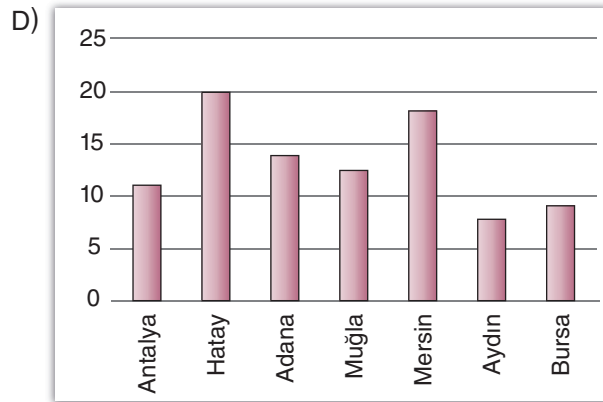
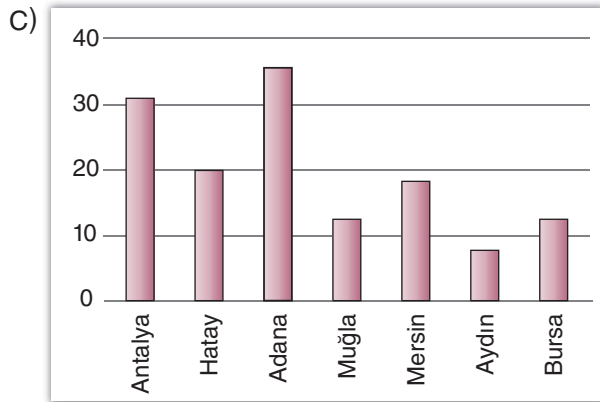
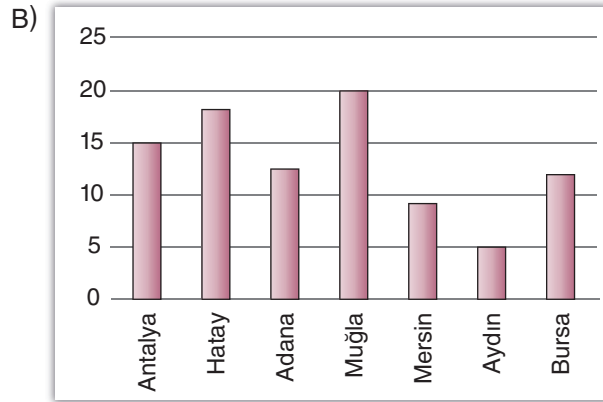
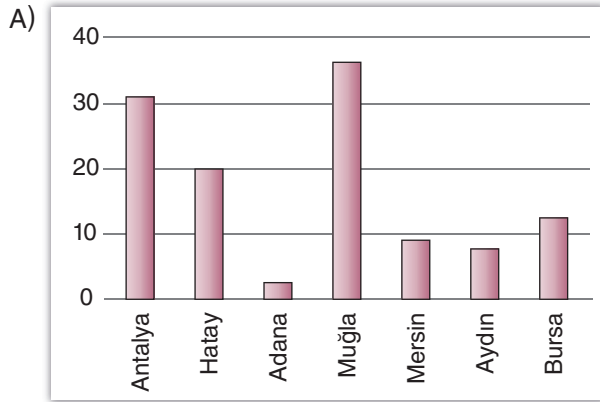
- A) Seni de İdil'i de tanıyorum, bence aranızda bir yanlış anlaşılma olmalı.
B) İdil'le bazen ben de iletişim sorunları yaşıyorum ama iyi niyetli biri.
C) Benim tanıdığım İdil'den mi bahsediyorsun gerçekten? Çünkü o asla böyle davranmaz.
D) Bu aralar kafası başka yerde gibi senin dediklerini yanlış anlıyor olmasın?



9. Aşağıdaki grafikte bir satış personelinin 2022 yılı içinde Antalya, Hatay, Adana, Muğla, Mersin, Aydın ve Bursa'ya kaç kez gittiği gösterilmiştir. Satış personelinin 2023 yılı verilerine bakıldığında en çok gittiği şehrin değiştiği, en az gittiği şehrin ise Aydın olduğu görülmüştür.



Buna göre satış personelinin 2023 yılı verileri aşağıdakilerden hangisi olamaz?



10. Ahmet, Nihat ve Damla adlı atletlerin 100, 500 ve 1000 metre koşularında gösterdikleri başarı ile ilgili bilinenler aşağıda verilmiştir.

- 100 ve 500 metre koşularında en başarılı atlet Ahmet'tir.
- 500 ve 1000 metre koşularında en başarısız atlet Nihat'tir.
- Damla, 100 metre koşusunda en başarısız atlettir.

Bu bilgilerden hareketle,

- Nihat, 100 metre koşusunda ikinci olmuştur.
- Damla, 500 metre koşusunda ikinci olmuştur.
- Damla, 1000 metre koşusunda ikinci olmuştur.

yargılarından hangileri kesin olarak doğrudur?

- A) Yalnız I B) Yalnız III
C) I ve II D) II ve III

11.

Kakao ağacının yaprakları ilk çıktıklarında kırmızımsı renkte olur, daha sonra yeşile döner. Bu kalın yaprakların uzunluğu 40 santimetre, genişliğiye 20 santimetreye kadar ulaşabilir. Düzenli olarak dökülen yaprakların yerlerine yenileri çıkar. Kakao ağacının çiçekleri, ağacın türüne göre beyaz, pembe, sarı ya da kırmızı olabilir.

Bu metinde "kakao ağaçları" ile ilgili aşağıdakilerden hangisine değinilmemiştir?

- A) Çiçeklerinin rengine
B) Yapraklarının boyutuna
C) Yapraklarının rengine
D) Çiçeklerinin biçimine

12. • İkilemeler ayrı yazılır.
• Küçük harflerle yapılan kısaltmalara getirilen eklerde kelimenin okunuşu esas alınır.
• Sıfat veya zarf görevindeki pekiştirmeli sözler bitişik yazılır.

Aşağıdaki cümlelerin hangisindeki yazım yanlışı, verilen kurallardan herhangi biriyle ilgili değildir?

- A) Benimle Ankara'da kalırmısın?
B) Seninle iyikötü günlerimiz oldu.
C) Mas mavi gözleriyle bana bakıyordu.
D) Bahçeden 1 kg'den fazla elma topladık.

13. Birçok çikolata çeşidi var () sütlü () fındıklı () fıstıklı ()

Bu cümlede yay ayraçla gösterilen yerlere sırasıyla getirilmesi gereken noktalama işaretleri aşağıdakilerin hangisinde verilmiştir?

- A) (;) (,) (,) (...)
B) (:) (,) (,) (...)
C) (;) (,) (,) (.)
D) (,) (;) (,) (...)



14 ve 15. soruları MEB kitabını kullanan öğrenciler çözecektir.

14.

Yılmadan, önüne çıkan engelleri birer birer aşarak geldi bugünlere. Gecesini gündüzüne kattı, üstüne aldığı görevlerin her birini kılı kırk yarararak, ince eleyip sık dokuyarak yerine getirdi. Şimdi önemli bir şirkette üst düzey yönetici olarak çalışıyor.

Bu metinde söz edilen kişi ile ilgili aşağıdakilerden hangisi söylenemez?

- A) Titiz
B) Mücadeleci
C) Çalışkan
D) Meraklı

15.

(I) Günümüze kadar pek çok kâşif, denizlerin derinliklerine ulaşabilmek için birbirinden farklı araçlar ve dalış giysileri tasarlamış. (II) Eskiden dalış tüpleri olmadığı için dalgıçlar, bir pompadan başlıklarının içine pompalanan havayı soluyordu. (III) Pompa bozulursa boğulma tehlikesiyle karşı karşıya kalıyordu. (IV) Zaman içinde dalgıçları bu sorundan kurtaran dalış tüpleri icat edildi.

Bu metinde numaralanmış cümlelerle ilgili aşağıdakilerden hangisi söylenemez?

- A) I. cümle, amaç-sonuç cümlesidir.
B) II. cümle, neden-sonuç cümlesidir.
C) III. cümle, koşul-sonuç cümlesidir.
D) IV. cümle, amaç-sonuç cümlesidir.

16 ve 17. soruları özel yayınların kitabını kullanan öğrenciler çözecektir.

16. Durum ekleri; isimlere belirtme, yönelme, bulunma ve ayrılma anlamı katan eklerdir.

Buna göre aşağıdaki cümlelerin hangisinde durum eki kullanılmamıştır?

- A) Arkadaşım bana sürekli seni soruyor.
B) Ağaçların yeşil yaprakları göz dolduruyor.
C) Altıncı sınıfta olduğu için çok çalışıyor.
D) Kimi hayvanlar, insanlara daha yakın olur.

17. Baharı arıyorum

I
Renk renk çiçeklerde
II

Özlüyorum

Ötüşüyle büyüleyen kuşların mevsimini
III

Karlı ufukların ardından
IV

Gülümseyerek gelmesini

Bekliyorum

Bu dizelerde numaralanmış sözcüklerle ilgili aşağıdakilerden hangisi yanlıştır?

- A) I. sözcükte, belirtme durumu eki vardır.
B) II. sözcükte, yönelme durumu eki vardır.
C) III. sözcükte, çoğul eki vardır.
D) IV. sözcükte, ayrılma durumu eki vardır.



Kazanım:

- 6.3.5. Bağlamdan yararlanarak bilmediği kelime ve kelime gruplarının anlamını tahmin eder.
6.3.6. Deyim ve atasözlerinin metne katkısını belirler.
6.3.17. Metinle ilgili soruları cevaplar.
6.3.30. Görsellerle ilgili soruları cevaplar.

- 6.3.35. Grafik, tablo ve çizelgeyle sunulan bilgileri yorumlar.
6.4.10. Yazdıklarını düzenler.
MEB: 6.3.14. Metindeki söz sanatlarını tespit eder.
ÖZEL YAYIN: 6.3.7. Çekim eklerinin işlevlerini ayırt eder.

Adı ve Soyadı:

Sınıfı:

Doğru Sayısı:

Yanlış Sayısı:

1. Aşağıdaki cümlelerin hangisinde “öylesine” sözcüğü diğerlerinden farklı bir anlamda kullanılmıştır?

- A) İçindeki başarı ateşi öylesine harlıydı ki hatalarını görmüyordu.
B) Hayatı boyunca öylesine sıkıntılar görmüş ki bu olay onu yıkamaz.
C) Misafirlerin haberini aniden alınca ortalığı öylesine toplayıverdi.
D) Bebeğin sevimliliğine kendimi öylesine kaptırdım ki zaman durdu.

2. Direksiyon egemenliğini elinde tutan şoför, aracını istediği hızla istediği yöne sürebilir. Bu egemenliği edinmemiş acemi şoförü ise direksiyon yönetir. Bu nedenle yaptığımız her işte yetkin olmalı, o işi bütün inceliklerine kadar öğrenmeliyiz.

Bu metinde altı çizili sözün metne kattığı anlam aşağıdaki cümlelerin hangisinde vardır?

- A) Yalnızca köleler kendilerini kurtaracak birini bekler.
B) Her koşulda doğruyu savunup yalnız kalmayı tercih ederim.
C) Dümeni ele alamamış deneyimsiz kişilerin rotasını yine dümen belirler.
D) Küçük şeylere fazla önem verenler ellerinden büyük şeyler gelmeyenlerdir.

3. İnsanlar başaklara benzer; içleri boşken başları havadadır, doldukça eğilirler.

Bu cümleden hareketle,

- I. İnsan, bilgisi ve görgüsü arttıkça daha alçak gönüllü olur.
II. İnsanı olgunlaştıran, hayat boyu edindiği tecrübelerdir.
III. İnsan, hayallerine ancak bilgi ve tecrübeleriyle ulaşabilir.

yargılarından hangilerine ulaşılabilir?

- A) Yalnız I
B) Yalnız III
C) I ve II
D) II ve III

4. (I) Uzay aracı ve roket üreticisi SpaceX şirketi, “Falcon Heavy” adlı roketi 6 Şubat’ta uzaya fırlattı. (II) Bu fırlatma, ilk kez kullanılacak olan bu roketi denemek için yapılmıştı. (III) Fırlatma, deneme amaçlı olduğundan rokete simgesel önemi olan bir yük yerleştirildi. (IV) Bu, şirketin kurucusu Elon Musk’ın elektrik enerjili spor otomobiliydi.

Bu metinde numaralanmış cümlelerle ilgili aşağıdakilerden hangisi söylenemez?

- A) I. cümlede, roketin uzaya fırlatılma zamanı belirtilmiştir.
B) II. cümlede, roketin fırlatılma amacına değinilmiştir.
C) III. cümlede, rokete yük yerleştirilmesinin nedeni açıklanmıştır.
D) IV. cümlede, roketi geliştiren mühendisten söz edilmiştir.



914771

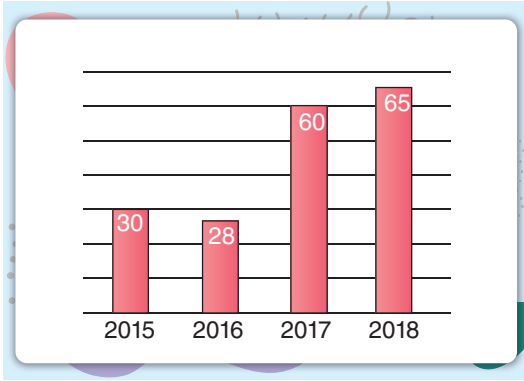
ÖĞRENCİ NO	YANITLAR
0 0 0 0 0 0	1 A B C D 11 A B C D
1 1 1 1 1 1	2 A B C D 12 A B C D
2 2 2 2 2 2	3 A B C D 13 A B C D
3 3 3 3 3 3	4 A B C D 14 A B C D
4 4 4 4 4 4	5 A B C D 15 A B C D
5 5 5 5 5 5	6 A B C D 16 A B C D
6 6 6 6 6 6	7 A B C D 17 A B C D
7 7 7 7 7 7	8 A B C D 18 A B C D
8 8 8 8 8 8	9 A B C D 19 A B C D
9 9 9 9 9 9	10 A B C D 20 A B C D



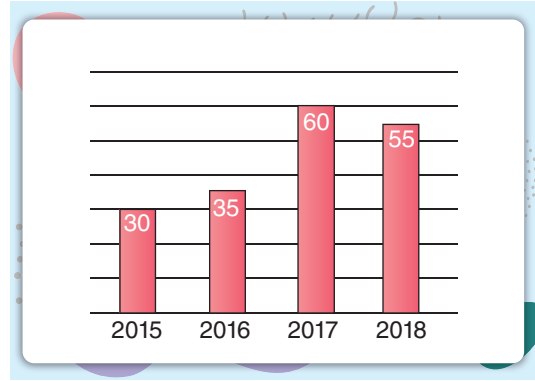
5. Miray, 2015 yılında toplamda 30 adet kitap okumuştur, ertesi yıl okuduğu kitap sayısı bu yıldan daha az olmuştur. 2017 yılında ise 2015 yılında okuduğu kitap sayısının iki katı kadar kitap okumuştur. 2018 yılında ise 2017'ye göre okuduğu kitap sayısı artmıştır.

Buna göre Miray'ın 2015-2018 yılları arasında okuduğu kitap sayılarına ait grafik aşağıdakilerden hangisi olabilir?

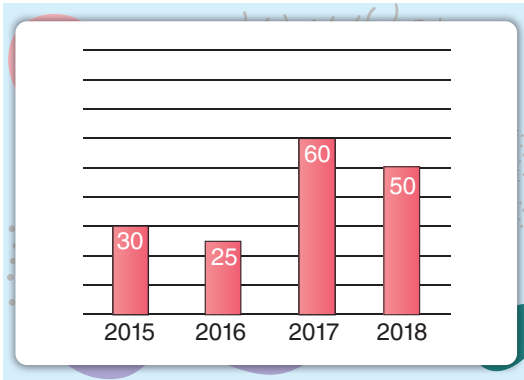
A)



B)



C)



D)

